

















Wie gut kannst du mit Geld rechnen?

1. **Aufgabe:** Schreibe auf, wie viel Geld in jedem Kästchen ist.

	
	
<hr style="border: 1px solid blue; width: 150px; margin: 0 auto;"/>	<hr style="border: 1px solid blue; width: 150px; margin: 0 auto;"/>
	
	
<hr style="border: 1px solid blue; width: 150px; margin: 0 auto;"/>	<hr style="border: 1px solid blue; width: 150px; margin: 0 auto;"/>
	
	
<hr style="border: 1px solid blue; width: 150px; margin: 0 auto;"/>	<hr style="border: 1px solid blue; width: 150px; margin: 0 auto;"/>
	
	
<hr style="border: 1px solid blue; width: 150px; margin: 0 auto;"/>	<hr style="border: 1px solid blue; width: 150px; margin: 0 auto;"/>

2.

Wer kauft was?

Rechne nach, wer mit Seinem Geld die CD, die Mütze usw. kauft.

Schreibe die Ergebnissätze in dein Rechenheft.



CD
nur 6,89 €



Spielwürfel
9,74 €



Buch
14,55 €



Spiel
16,34 €



MP3-Player
19,55 €



Mütze
8,69 €



Anna



Steffi



Jens



Paul



Clara



Hannes